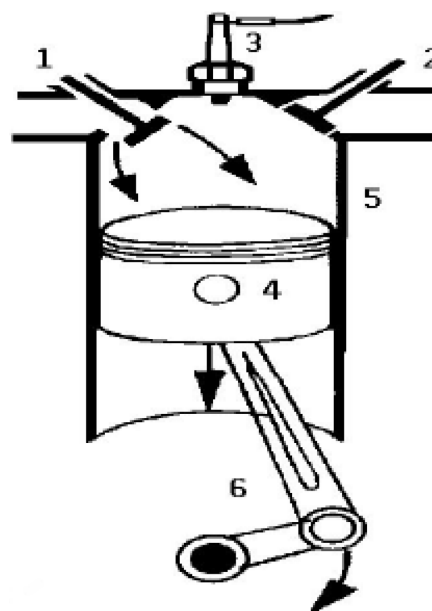




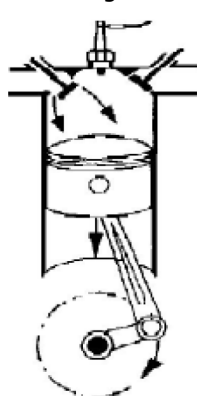
Der Verbrennungsmotor

Benenne die Teile:

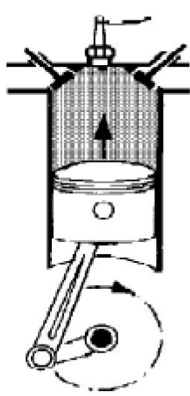
- 1) _____
- 2) _____
- 3) _____
- 4) _____
- 5) _____
- 6) _____



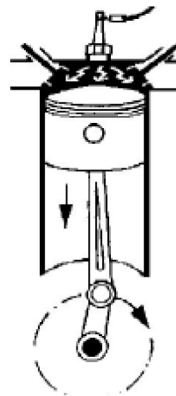
Beschreibung der Arbeitsweise des 4-Takt-Motors:



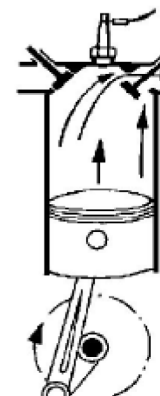
1. Takt



2. Takt



3. Takt



4. Takt

	_____ -Takt	_____ -Takt	_____ -Takt	_____ -Takt
Kolben- bewegung				
Einlassventil				
Auslassventil				
Gasgemisch				

Nenne drei umweltschädliche Bestandteile des Abgases:

- 1) _____
- 2) _____
- 3) _____

Arbeitsauftrag:

Informiere dich in deinem Chemie-
buch über chemische Reaktionen im
Verbrennungsmotor und über Abgas-
reinigung.