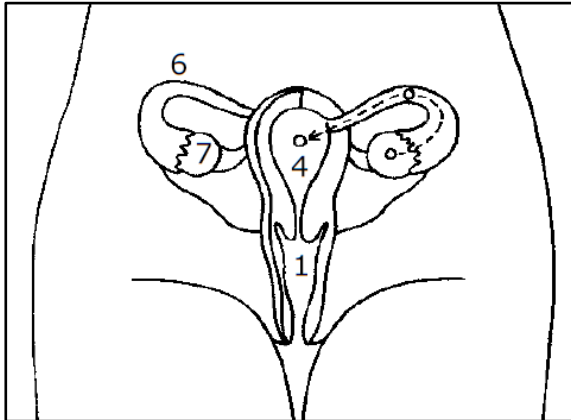


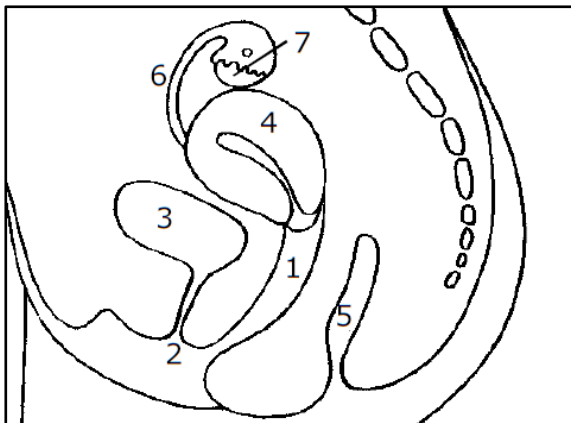


Die Geschlechtsorgane



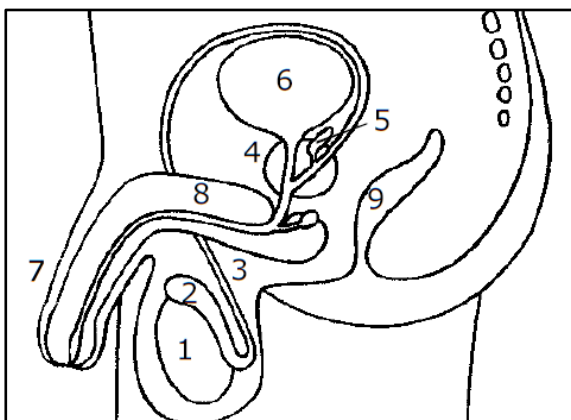
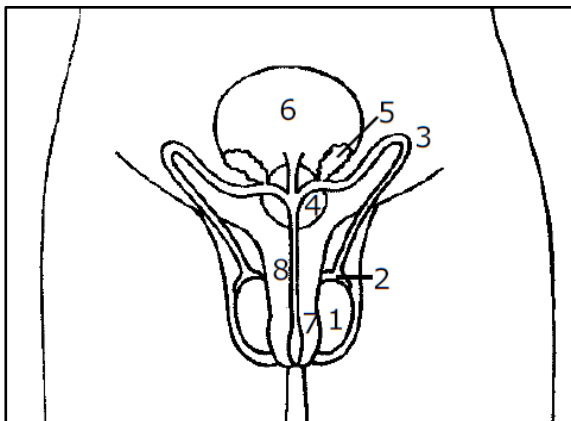
weiblich

- 1 _____
- 2 _____
- 3 _____
- 4 _____
- 5 _____
- 6 _____
- 7 _____



männlich

- 1 _____
- 2 _____
- 3 _____
- 4 _____
- 5 _____
- 6 _____
- 7 _____
- 8 _____
- 9 _____



Arbeitsauftrag:

Beschrifte die Zeichnung mit den Begriffen:
*Bläschendrüse (= Samenblase) - Eierstock -
 Eileiter - Enddarm (After) - Enddarm (After) -
 Gebärmutter - Harnblase - Harnblase -
 Harnröhre - Hoden - Nebenhoden - Penis -
 Samenleiter - Scheide - Schwellkörper -
 Vorsteherdrüse (= Prostata)*